



Приглашаем всех попробовать свои силы в нашем заочном математическом конкурсе.

Третий этап состоит из четырёх туров (с IX по XII) и идёт с мая по август.

Высылайте решения задач X тура, с которыми справитесь, не позднее 5 июля в систему проверки konkurs.kvantik.com (инструкция: kvan.tk/matkonkurs), либо электронной почтой по адресу matkonkurs@kvantik.com, либо обычной почтой по адресу 119002, Москва, Б. Власьевский пер., д. 11, журнал «Квантик».

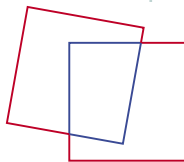
В письме кроме имени и фамилии укажите город, школу и класс, в котором вы учитесь, а также обратный почтовый адрес.

В конкурсе также могут участвовать команды: в этом случае присылается одна работа со списком участников. Итоги среди команд подводятся отдельно.


Задачи конкурса печатаются в каждом номере, а также публикуются на сайте www.kvantik.com. Участвовать можно, начиная с любого тура. Победителей ждут дипломы журнала «Квантик» и призы. Желаем успеха!

X ТУР


46. Квантик положил два одинаковых квадрата на стол так, что они налегают друг на друга, но не совпадают. Затем он обвёл красным карандашом получившуюся фигуру, а оставшиеся части сторон квадратов обвёл синим карандашом. Оказалось, что периметр красной фигуры в полтора раза больше периметра синей. Во сколько раз периметр красной фигуры больше периметра одного квадрата?



Шарик, ты дальтоник, что ли? Сто раз повторил, что нужен красный карандаш, красный!



Барон, я просто просила умножить два на два. А это что такое?!



47. Барон Мюнхгаузен утверждает, что можно выписать на доску в некотором порядке 9 различных цифр и поставить между некоторыми из них знак «+» так, чтобы результат был равен 2023. Не ошибается ли барон?

Авторы: Георгий Караваев (46, 50), Михаил Евдокимов (47), Марина Хачатурян (48), Сергей Полозков (49)

48. В белом клетчатом листочке 10×10 одну клетку закрасили красным. Затем листочек сложили несколько раз по линиям сетки и диагоналям клеток, проткнули иглой и развернули. Могло ли случиться, что внутри каждой белой клетки, не на сгибах, есть точка прокола, а внутри красной клетки прокола нет?



49. Емеля перемещается только на печи, которая ездит на дровах – полено на километр – и вмещает 60 поленьев. Вчера Емеля выехал на печи из дома, на некотором расстоянии от него сделал склад поленьев, после чего вернулся обратно. Сегодня Емеля снова набрал поленьев, выехал из дома, проехал через склад... и не вернулся – кончились поленья. Как далеко от дома он мог оказаться? Найдите наибольшее возможное расстояние.

50. Круг разделили двумя перпендикулярными хордами на 4 части. Могли ли их площади равняться 2022, 2023, 2024 и 2025 см²?

